



Planeación de aula.

Grado: 5	Área/Asignatura: Ciencias Sociales	Fecha: Junio de 2023
Docente / C.D.A.: Manuel Bastidas Jiménez – Ever José Escaño Pianeta.		
Sede: Cicuco 1	Periodo Académico: Período 2	
EJE TEMATICO: REGIONES NATURALES DE COLOMBIA Y SUS CARACTERISTICAS		
Tiempo de Ejecución: Dos (3) semanas.		

Identificación

Aprendizajes

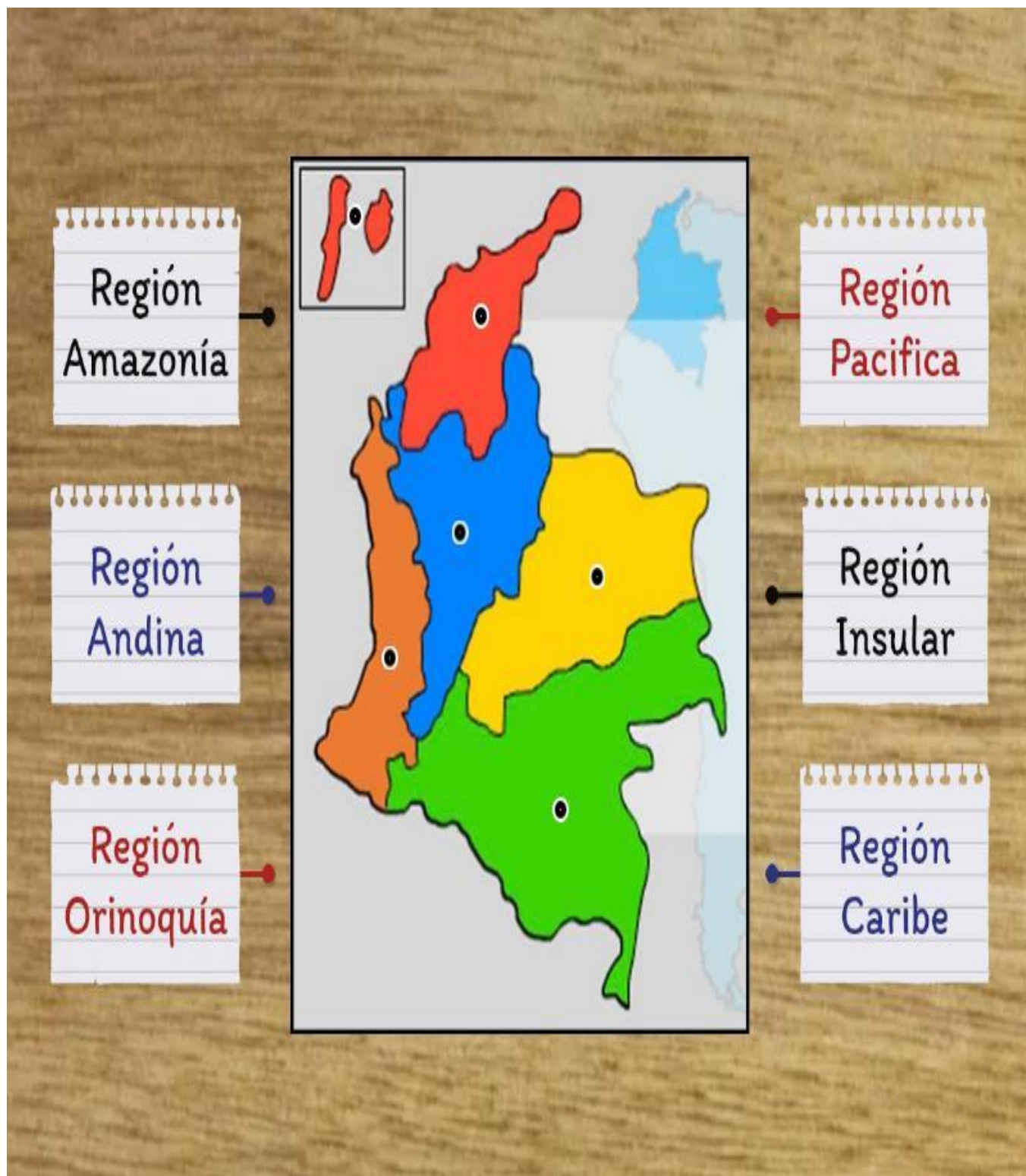
1. Objetivos de aprendizajes
➤ Identificar las regiones naturales de Colombia y sus características.
2. Referentes curriculares (EBC, DBA, Matriz de Referencia, Mallas de Aprendizaje)
<p>ESTANDAR: RECONOZCO ALGUNAS CARACTERISTICAS FISICAS Y CULTURALES DE MI ENTORNO, SU INTERACCION Y LAS CONSECUENCIAS SOCIALES, POLITICAS Y ECONOMICAS QUE RESULTAN DE ELLAS.</p> <p>Relaciones espaciales y ambientales.</p> <p>2.1. Identifico y describo características de las diferentes regiones naturales del mundo (desiertos, polos, selva húmeda tropical, océanos...) y humanas (sociales, culturales).</p> <p>DERECHO BASICO DE APRENDIZAJE.</p> <p>_Comprende la organización territorial existente en Colombia y las particularidades geográficas de las regiones (1).</p>
3. Evidencias de Aprendizajes / Desempeños Esperados
<p>3.1. Explica la forma de división territorial en Colombia: corregimientos, municipios, área metropolitana, departamento y territorio indígena.</p> <p>3.2. Diferencia las regiones geográficas en las que está dividido el territorio colombiano y las reconoce a partir de la lectura de mapas temáticos.</p> <p>3.3. Relaciona la existencia de los pisos térmicos con los recursos naturales de cada región e identifica su incidencia en la diversidad de cultivos y actividades humanas.</p>
4. Recursos y materiales
Humano, tableros, marcadores, cuadernos, lápices, carteleras, mapas terráqueos, textos guías.



Momentos de la clase

1. Inicio /exploración de saberes previos (10 minutos)

1.1. Observa la imagen y escribe el nombre de la región.



2. Contenido / Estructuración (15 minutos)

Colombia se divide en seis grandes regiones, cada una con diversas características geográficas, demográficas y económicas. Estas regiones son: Región Caribe, Región Pacífica, Región Andina, Región Amazonía y Región de la Orinoquía y Región Insular.

Región Caribe



Ubicación: La Región Caribe está ubicada en el norte de Colombia, sobre el Mar Caribe.

División: Está conformada por los departamentos de La Guajira, Magdalena, Atlántico, César, Bolívar, Sucre y Córdoba.

Suelo: El relieve es plano en su mayoría, excepto la Sierra Nevada de Santa Marta. Presenta llanuras, depresiones, montañas, llanuras, sabanas y arrecife de coral. Por las características de su geografía presenta gran variedad de especies animales y vegetales. La flora marina es muy

exótica.

Clima: El clima de la región Caribe es cálido y predominan las precipitaciones y la humedad relativa es alta.

Economía: Los suelos de esta región son aptos para la ganadería y la agricultura y por la abundancia de aguas, se practica la pesca a gran escala. Otras actividades económicas son las industriales en ciudades como Barranquilla y Cartagena con su industria petrolera. El turismo, es una actividad de gran importancia en la economía de la Región Caribe.

Población: La población básicamente es mestiza y otra parte afrodescendientes.

Cultura: En la región se festejan fiestas importantes a nivel nacional como **El Festival de la Leyenda Vallenata** en Valledupar, **El Carnaval de Barranquilla** y las **Fiestas del Mar** en Santa Marta.

Región Pacífica



Ubicación: La región Pacífica está ubicada en el occidente de Colombia, sobre el Océano Pacífico.

División: Está conformada por los departamentos de Chocó, Valle del Cauca, Cauca y Nariño.

Suelo: Presenta llanuras, serranías y montañas en su relieve. La Serranía del Baudó, es muy representativa en su relieve.

Clima: Clima tropical húmedo de selva. Presenta un alto índice de precipitaciones anuales.

Economía: Su economía de basa en la minería, además, se practica la pesca, la ganadería y la agricultura. Su flora y fauna es muy diversa y abundante.

Población: La población de la Región Pacífica es su mayoría son afrodescendientes, aunque se han mezclado con blancos provenientes de Antioquia y otros departamentos vecinos.

Cultura: El **Carnaval de Blancos y Negros**, celebrado en Pasto y la **Feria de Cali**. son la mayor representación de sus expresiones culturales. Además, el baile del Currulao, Jota y Contradanza.

Región Andina



Ubicación: Ubicada en el Centro de Colombia.

División: Está conformada por los departamentos de Antioquia, Risaralda, Caldas, Quindío, Tolima, Huila, Norte de Santander, Santander, Boyacá y Cundinamarca.

Suelo: Presenta mesetas, cerros, paramos, nevados y Valles. Se destacan la meseta Cundi-boyacense, el Nevado del Ruíz y el Sistema Montañoso de los Andes (Cordilleras Central, Oriental y Occidental).

Clima: Se encuentran diversos pisos térmicos. Se destacan los climas templados como el de Bucaramanga y fríos como el de Bogotá.

Economía: Por ser una región que presenta muchos nacimientos de agua y abundantes recursos naturales, se destaca la ganadería y la agricultura. Las diversas industrias también ocupan un lugar importante en la economía de la región.

Población: En su gran mayoría son mestizos, aunque también habitan indígenas en algunas partes de la región.

Cultura: La cultura de esta región es muy diversa por la influencia de muchas personas de otras regiones y otros países. Entre las expresiones culturales se destacan: El desfile de Silleteros en Medellín, El Festival del Arte de Bogotá, entre otras. Se desatacan los bailes de bambuco, torbellino y San Juanero.

Región de la Amazonía



Ubicación: Se encuentra ubicada al sur del país, en los límites con Ecuador y Brasil.

División: Está conformada por los departamentos de Guaviare, Guainía, Vaupés, Amazonas, Caquetá y Putumayo.

Suelo: El relieve es plano en su mayoría con suelos poco fértiles.

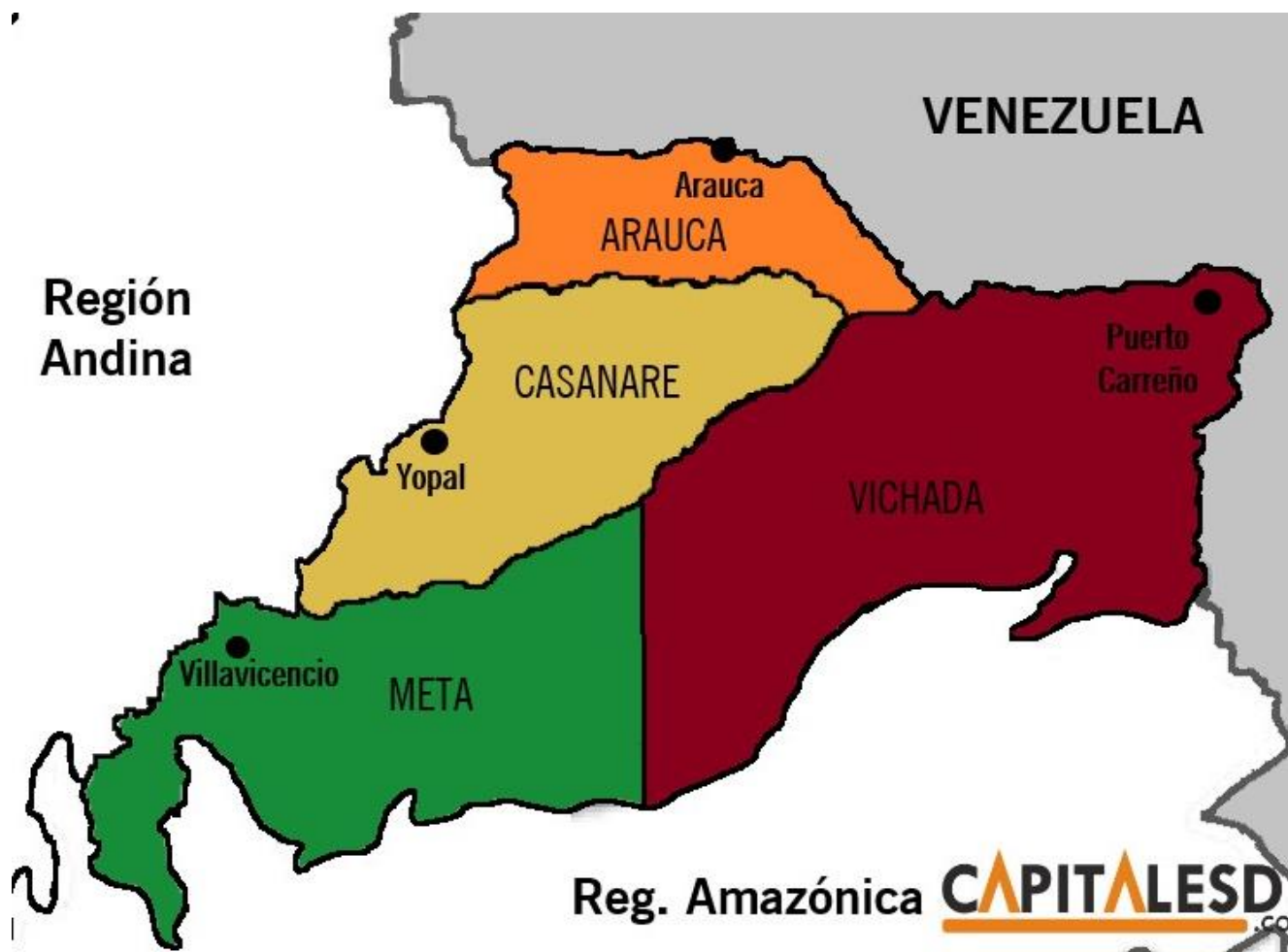
Clima: El clima es cálido tropical.

Economía: Esta región es rica en recursos naturales. Se practica la pesca, la ganadería y la explotación petrolera.

Población: La población en su mayoría son indígenas.

Cultura: Se celebra el Carnaval de Sibundoy, Reinado y Festival Nacional e Internacional de la Ecología y El Festival Folclórico de San Pedro.

Región de la Orinoquía.



Ubicación: Está ubicada en el oriente de Colombia, en los límites de Venezuela y Brasil.

División: Esta conformada por los departamentos de Arauca, Casanare, Meta y Vichada.

Suelo: El relieve en un gran porcentaje es plano.

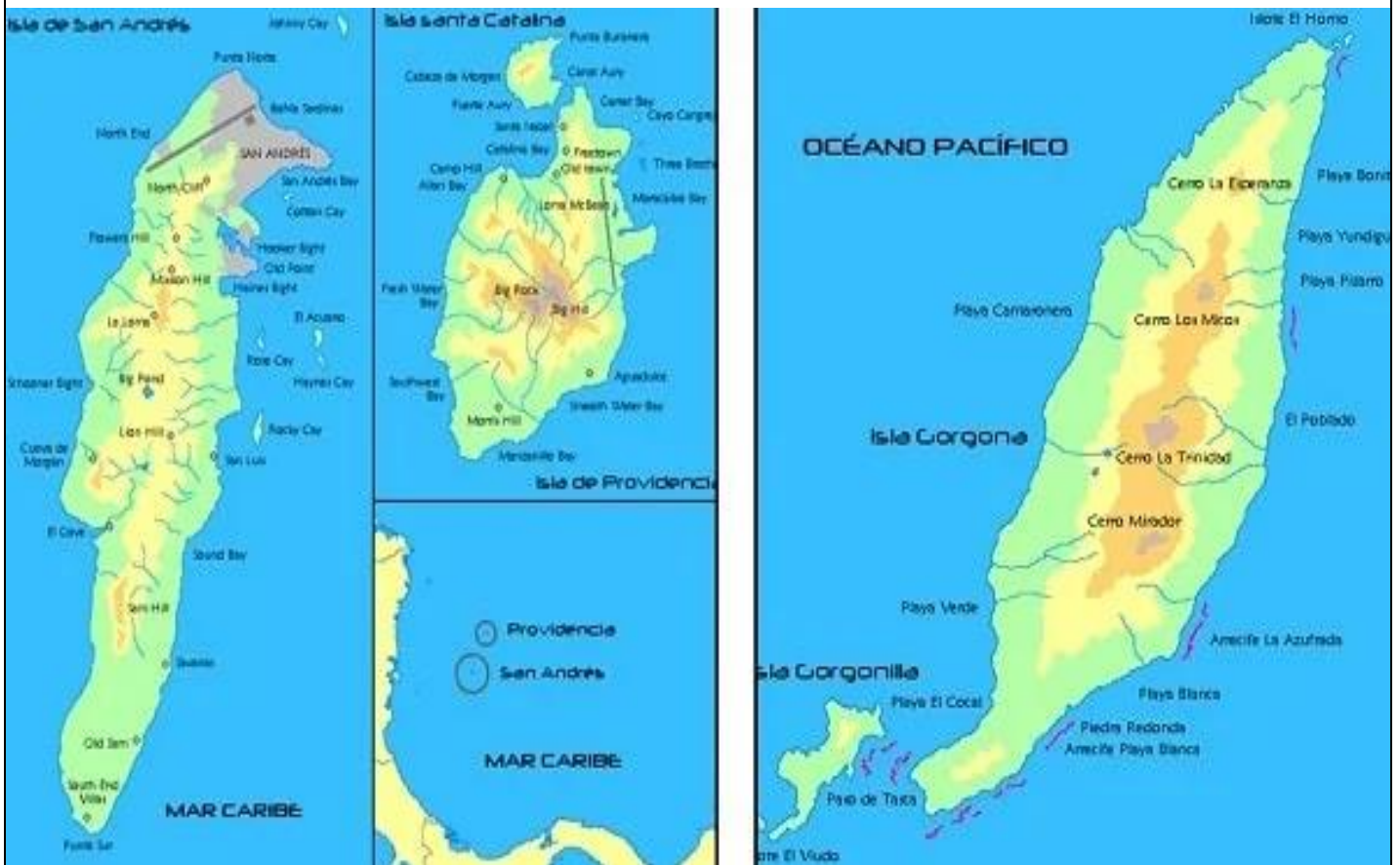
Clima: El clima de esta región es cálido.

Economía: La economía tiene la base sobre la ganadería y la explotación petrolera.

Población: La población de esta región es escasa y dispersa.

Cultura: Se festeja el Encuentro Mundial del Coleo y El Torneo Nacional del Joropo.

Región Insular



Ubicación: Este conjunto de Islas se encuentran ubicadas sobre el Mar Caribe y Océano Pacífico.

División: Está conformada por una serie de islas. En el Caribe se les conoce como el Archipiélago de San Andrés. El departamento se llama San Andrés y Providencia y su capital es San Andrés. Las Islas más grandes son San Andrés, Santa Catalina y Providencia.

En el Océano Pacífico, también se encuentran unas islas que conforman la Región Insular. Las islas que más se destacan son las de Gorgona, Gorgonilla y Malpelo.

Suelo: Está formado por colinas, serranías y suelos volcánicos.

Clima: El clima es de carácter cálido tropical.

Economía: La economía tiene su base sobre el turismo, además se practica el comercio y la pesca.

Población: La población está conformada por africanos, blancos y mestizos.

Cultura: La mayor representación de la cultura está representada por los géneros de baile como Calipso, Polka y Quadrille.

3. Práctica / Transferencia (25 minutos)

1. Colorea de acuerdo a la clave:

Región Caribe: Naranja. Región Andina: Amarillo. Región Pacífica: Azul. Región Orinoquía: Rosado. Región Amazonía: Verde.



Región Caribe

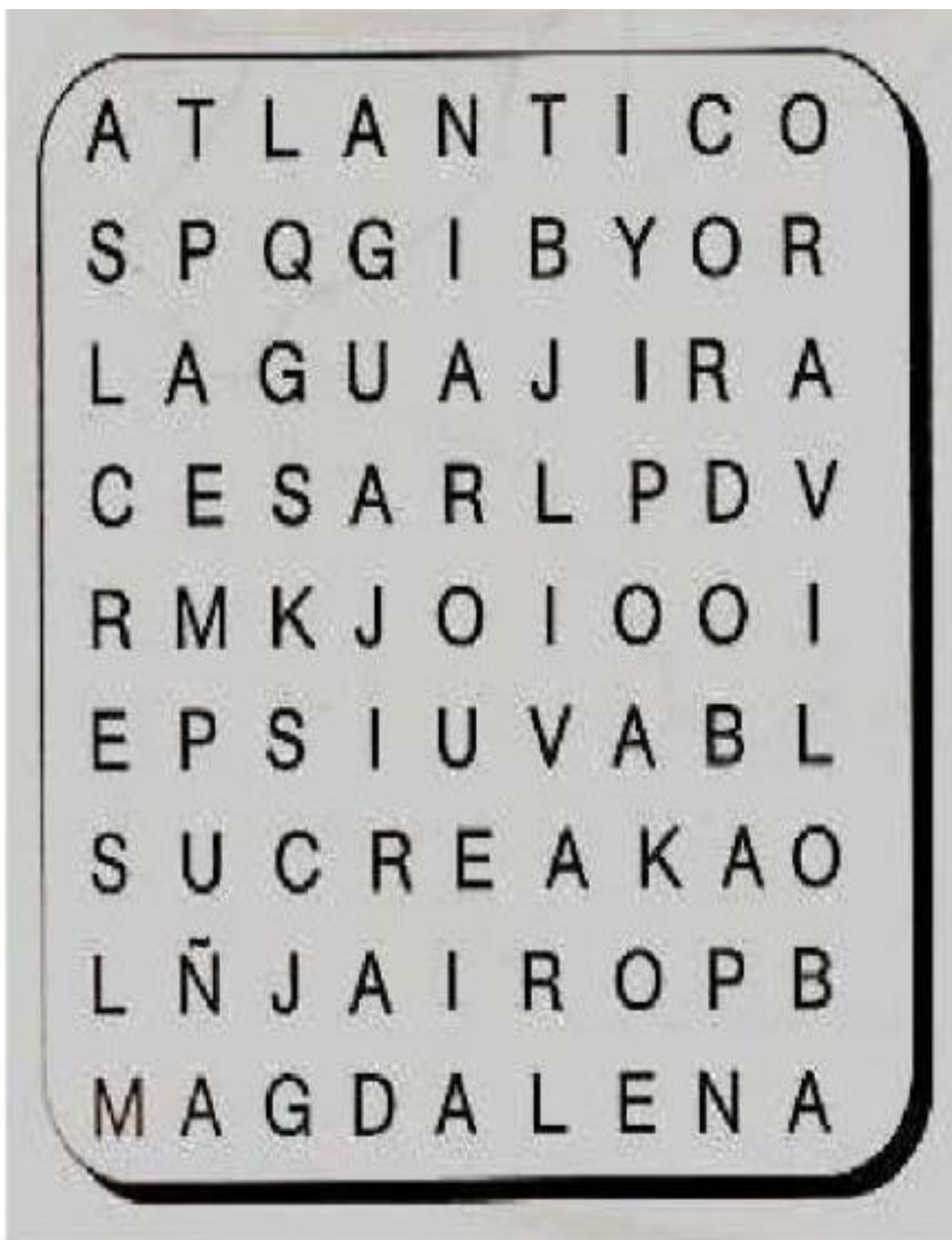
2. Observa el mapa de Colombia, ubica la Región Caribe, Colorea y escribe el nombre de sus departamentos con sus capitales.



BOLIVAR
SUCRE
LA GUAJIRA
CORDOBA
ATLANTICO
CESAR
MAGDALENA
SAN ANDRES

Y

3. Encierra en la sopa de letras los departamentos de la Región Caribe.



4. Completa la tabla con la información requerida.

UBICACIÓN	DIVISION	RELIEVE	CLIMA	ECONOMIA	POBLACION	CULTURA

5. Piensa y responde las preguntas:

- Nombre del desierto más grande de Colombia: _____
- Ciudad donde se realiza el festival vallenato: _____
- Región Ubicada en la Costa Norte de Colombia: _____
- Ciudad donde se encuentra la Sierra Nevada de Santa Marta: _____
- Nombre de la Capital de Bolívar: _____
- Nombre del Mar que baña a la Región Caribe: _____
- Ciudad donde se festeja el Carnaval más grande de Colombia: _____
- Nombre de la Región Conformada por un conjunto de Islas: _____
- Nombre de la capital de San Andrés: _____
- Nombra un plato típico de la Región Caribe: _____
- Nombre de un famoso escritor de la Costa Caribe: _____

Región Pacífica



depa

CAL

el nombre de sus

CHOCÓ
NARIÑO
VALLE DEL
CAUCA



7. Encierra en la sopa de letras las palabras relacionadas con la Región Pacífica.

Q	U	I	B	D	O	A	D	P	A	M	A
R	B	A	U	D	O	B	E	A	T	C	M
B	U	E	N	A	V	E	N	T	U	R	A
I	A	C	M	R	E	S	T	I	M	E	L
M	A	R	I	I	C	I	E	A	A	S	P
P	O	L	R	E	T	C	H	O	C	O	E
N	O	S	A	N	J	U	A	N	O	M	L
E	A	O	P	N	A	P	S	U	I	E	O

8. Completa la tabla con la información requerida.

UBICACIÓN	DIVISION	RELIEVE	CLIMA	ECONOMIA	POBLACION	CULTURA

9. Piensa y responde las preguntas:

- La Región Pacífica queda ubicada sobre la costa del Océano: _____
- Capital del departamento del Chocó: _____
- Ciudad principal de la Región Pacífica: _____

- d. Puerto marítimo sobre el Océano Pacífico: _____
- e. Nombre de un baile típico de la Región Pacífica: _____
- f. Nombre del Mar que baña a la Región Pacífica: _____
- g. Población predominante en la Región Pacífica: _____
- h. Nombre de la principal Isla sobre la Costa Pacífica: _____
- i. Nombre del río Principal de la Región Pacífica: _____
- j. Nombra de la principal actividad económica de la Región Pacífica: _____

Región Andina

10. Observa el mapa de Colombia, ubica la Región Andina, Colorea y escribe el nombre de sus departamentos con sus capitales.



CUNDINAMARCA
ANTIOQUIA
CALDAS
HUILA
TOLIMA
RISARALDA
BOYACÁ
SANTANDER
NORTE DE SANTANDER
QUIINDIO

11. Encuentra en la Sopa de letras los departamentos de la Región Andina. Escribe en frente de cada uno el nombre de su capital.



ANTIOQUIA: _____

BOYACÁ: _____

CALDAS: _____

HUILA: _____

CUNDINAMARCA: _____

NORTE DE SANTANDER: _____

QUINDIO: _____

RISARALDA: _____

SANTANDER: _____

TOLIMA: _____

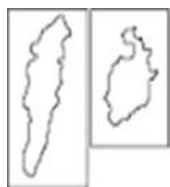
12. Completa la tabla con la información requerida:

UBICACIÓN	DIVISION	RELIEVE	CLIMA	ECONOMIA	POBLACION	CULTURA

13. Piensa y responde las preguntas:

- Así se llama la capital de Colombia: _____
- A la gente de esta ciudad le dicen los paisas: _____
- ¿Cómo es el clima de la Región Andina?: _____
- El relieve de la Región Andina generalmente es: _____
- Nombre del principal Sistema Montañoso de Colombia: _____
- Principales actividades económicas de la Región Andina: _____
- Así le dicen a la gente del interior del país: _____
- Principales actividades culturales de Bogotá: _____
- En ese lugar aprueban las leyes de Colombia: _____
- Desde ese lugar gobierna el presidente de Colombia: _____

14. Observa el mapa de Colombia, ubica la Región de la Amazonía, Colorea y escribe el nombre de sus departamentos con sus capitales.



AMAZONAS
PUTUMAYO
CAQUETÁ
VAUPÉS
GUAVIARE
GUAINIA

15. Encuentra en la Sopa de letras los departamentos de la Región de la Amazonía. Escribe en frente de cada uno el nombre de su capital.

G	A	I	N	O	Z	A	M	A	Z	E	F	F	G	W
C	P	R	W	J	F	G	U	G	M	R	F	L	U	G
H	F	P	J	V	M	A	N	A	C	O	N	D	A	W
A	W	C	S	J	W	Ñ	O	J	N	B	O	Y	V	C
M	M	Y	H	K	R	O	W	Ñ	P	E	Y	T	I	B
A	P	Z	L	I	F	M	Q	U	P	S	A	F	A	A
N	O	V	W	H	R	S	T	K	C	T	M	F	R	I
E	S	A	N	E	G	I	D	N	I	N	U	X	E	V
S	D	J	D	F	T	V	B	S	Ñ	A	T	M	Y	V
Ñ	L	W	F	A	H	L	N	I	E	T	U	E	M	G
P	B	Q	Q	U	L	E	J	C	Q	E	P	R	F	L
N	Q	M	G	N	Ñ	S	T	T	S	U	H	H	K	C
C	O	B	H	A	I	Z	B	A	K	T	E	U	A	H
G	A	S	T	R	O	N	O	M	I	A	G	T	I	D
A	O	M	S	I	M	I	N	A	M	P	Ñ	E	E	C

AMAZONÍA: _____

VAUPÉS: _____

PUTUMAYO: _____

VICHADA: _____

GUAVIARE: _____

CAQUETA: _____

16. Completa la tabla con la información requerida:

UBICACIÓN	DIVISION	RELIEVE	CLIMA	ECONOMIA	POBLACION	CULTURA

17. Piensa y responde las preguntas:

- Nombre de los países vecinos de esta región: _____
- Principal actividad económica de esta región: _____
- ¿Cuáles son los principales ríos de esta región?: : _____
- El relieve de la Región de la Amazonía es: _____
- ¿Por qué se le conoce a nivel mundial como el pulmón del mundo?: _____
- ¿Cómo se visten las personas de esta región?: _____
- ¿Cuál es la principal característica racial de la gente?: _____
- Principales actividades culturales de la Amazonía?: _____
- Principal plato de esta región: _____
- Así se llama el río principal: _____

Región de la Orinoquía.

18. Observa el mapa de Colombia, ubica la Región Orinoquía, Colorea y escribe el nombre de sus departamentos con sus capitales.



META
VICHADA
CASANARE
ARAUCA

REGION DE LA ORINOQUIA

O	D	E	N	Z	G	I	M	G	N
O	Ñ	C	B	Z	A	Z	N	K	O
T	C	V	E	N	J	W	Z	V	Q
L	A	E	O	C	S	I	F	O	M
B	S	M	O	W	F	U	C	O	A
G	A	N	A	D	E	R	I	A	R
M	N	B	O	P	O	R	O	J	A
S	A	V	T	P	K	R	F	F	U
V	R	I	O	E	Y	Q	N	B	C
H	E	C	L	T	L	A	Q	B	A
O	A	H	B	R	D	V	N	R	G
S	T	A	V	O	Q	G	K	H	N
A	E	D	D	L	D	A	T	K	V
I	M	A	D	E	P	K	D	W	H
L	Q	P	V	O	G	Ñ	J	T	S

ARAUCA
 CASANARE
 GANADERIA
 JOROPO
 MAMONA
 META
 PETROLEO
 VICHADA

ARAUCA: _____

CASANARE: _____

VICHADA: _____

META: _____

20. Completa la tabla con la información requerida:

UBICACIÓN	DIVISION	RELIEVE	CLIMA	ECONOMIA	POBLACION	CULTURA

21. Piensa y responde las preguntas:

Piensa y responde las preguntas:

- Nombre de las regiones vecina: _____
- Principal actividad económica de esta región: _____
- ¿Cuáles son los principales ríos de esta región?: : _____
- El relieve de la Región de la orinoquía es: _____
- ¿Cuál es la actividad económica de esta región?: _____
- ¿Cuál es el principal plato de la región?: _____
- La principal celebración cultural de esta región es: _____
- Principales actividades culturales de la Amazonía?: _____
- Países vecinos de esta región: _____

Region Insular

22. Observa el mapa para responder las preguntas.



23. Completa la tabla con la información requerida.

UBICACIÓN	DIVISION	RELIEVE	CLIMA	ECONOMIA	POBLACION	CULTURA

24. Escribe verdadero (V), o Falso (F), según corresponda:

- a. La Región Insular está formada por un conjunto de islas en el Mar Caribe y Pacífico ().
- b. A un conjunto de Islas se le llama Continente ().
- c. A un conjunto de Islas se le llama Archipiélago ().
- d. La principal isla del Caribe Insular es San Andrés ().
- e. La principal Isla del Pacífico Insular es la Gorgona ().
- f. La principal actividad de la Región Insular es el comercio y el turismo ().

25. Observa la Sopa de Letras, resuelve la buscar el

Vertical


- 1. REGION COSTERA DEL OCCIDENTE
- 2. REGION SELVATICA
- 3. COMPRENDE LAS ISLAS DE COLOMBIA

Horizontal

- 4. CONTIENE LAS TRES CORDILLERAS
- 5. REGION MAS PLANA
- 6. REGION COSTERA DEL NORTE

26. Resuelve el Crucigrama, busca departamento y capitales de Colombia.

Departamentos y capitales de Colombia



vertical

1. Capital del Chocó
2. Capital del Cauca
6. Capital de Amazonas
7. Capital de Bolívar
8. Capital de Antioquia
9. Capital de la Guajira
11. Capital de Guanía
14. Capital de Vaupés
15. Capital de Caquetá
17. Capital del Quindío
20. Capital de Risaralda
22. Capital de Boyacá
23. Capital de Tolima
24. Capital de Putumayo

horizontal

3. Capital de Norte de Santander
4. Capital de Nariño
5. Capital de Casanare
8. Capital de Córdoba
10. Capital del César
12. Capital de Cundinamarca
13. Capital del Atlántico
16. Capital del Valle del Cauca
18. Capital del Meta
19. Capital de Sucre
21. Capital de Magdalena
24. Capital de Caldas
25. Capital de Santander
26. Capital del Huila
27. Capital de Arauca

4. Descripción de la Evaluación y Valoración / cierre

La evaluación se hará de forma integral, en la que se tendrán en cuenta el desempeño, la responsabilidad, la participación del estudiante en las actividades que se desarrollen durante el transcurso del aprendizaje.